

PRUEBAS DE ACCESO A CICLOS FORMATIVOS DE GRADO SUPERIOR.

Orden de 2 de abril de 2018,(DOE, 16 de abril) Fecha 4 junio 2018

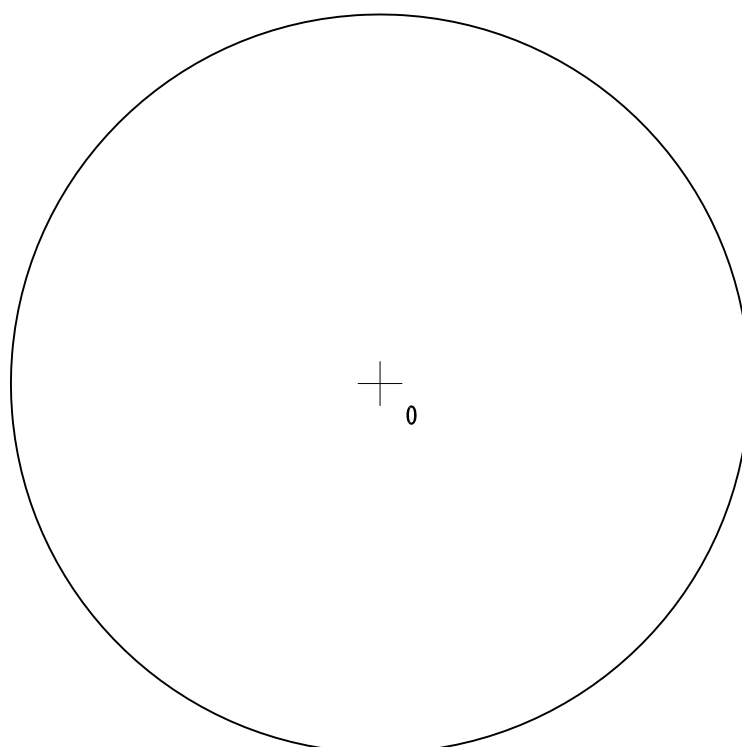
DATOS DEL ASPIRANTE
Apellidos:.....
Nombre.....DNI.....
I.E.S. de Inscripción
.....
I.E.S. de Realización:
.....

CALIFICACIÓN.
Dos decimales.

Instrucciones: Mantenga su DNI en lugar visible durante la realización del ejercicio. Grape todas las hojas de respuestas que correspondan a esta prueba junto a esta hoja u hojas de examen. Lea detenidamente los enunciados de los ejercicios antes de comenzar su resolución. Duración 85 minutos.

PRUEBA DE DIBUJO. (ESPECÍFICA)

EJERCICIO I:
DIBUJAR UN PENTÁGONO INSCRITO EN LA CIRCUNFERENCIA DADA.



JUNTA DE EXTREMADURA

Consejería de Educación y Empleo.

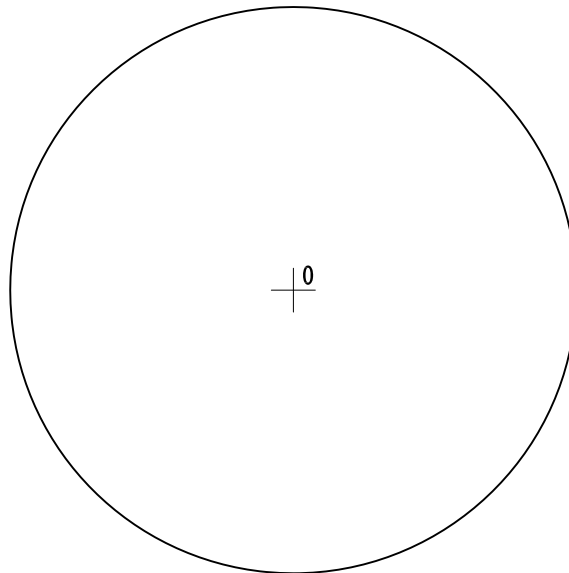
Dirección General de Formación Profesional y Universidad

Grado Superior: DIBUJO. Parte Específica.

EJERCICIO 2:

TRAZAR LAS CIRCUNFERENCIAS DE 40 MM DE RADIO, TANGENTES A LA DADA Y A LA RECTA R.

R



JUNTA DE EXTREMADURA

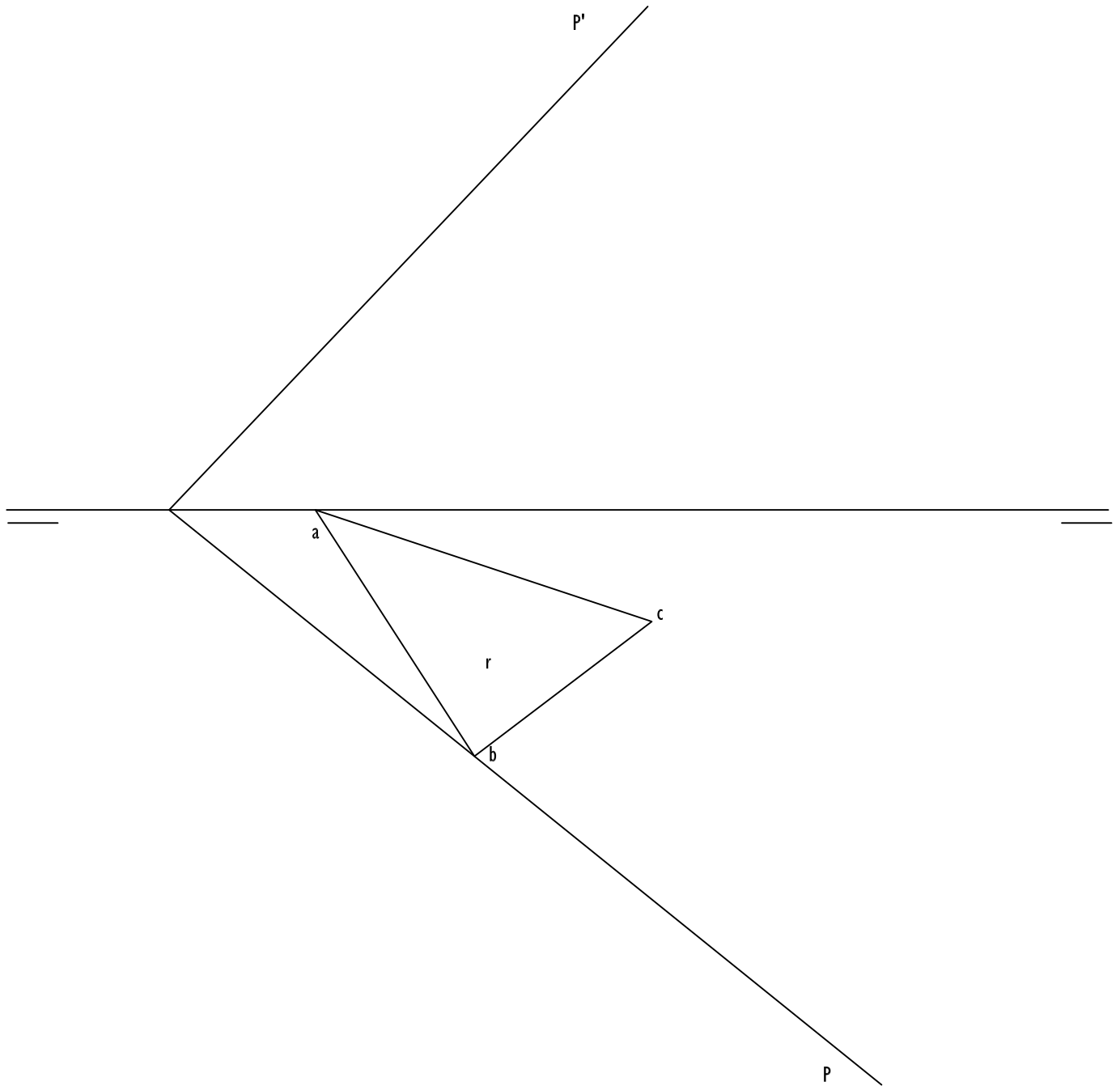
Consejería de Educación y Empleo.

Dirección General de Formación Profesional y Universidad

Grado Superior: DIBUJO. Parte Específica.

EJERCICIO 3:

HALLAR LA PROYECCIÓN VERTICAL Y LA VERDADERA MAGNITUD, DEL TRIÁNGULO ABC, PERTENECIENTE AL PLANO P.



JUNTA DE EXTREMADURA

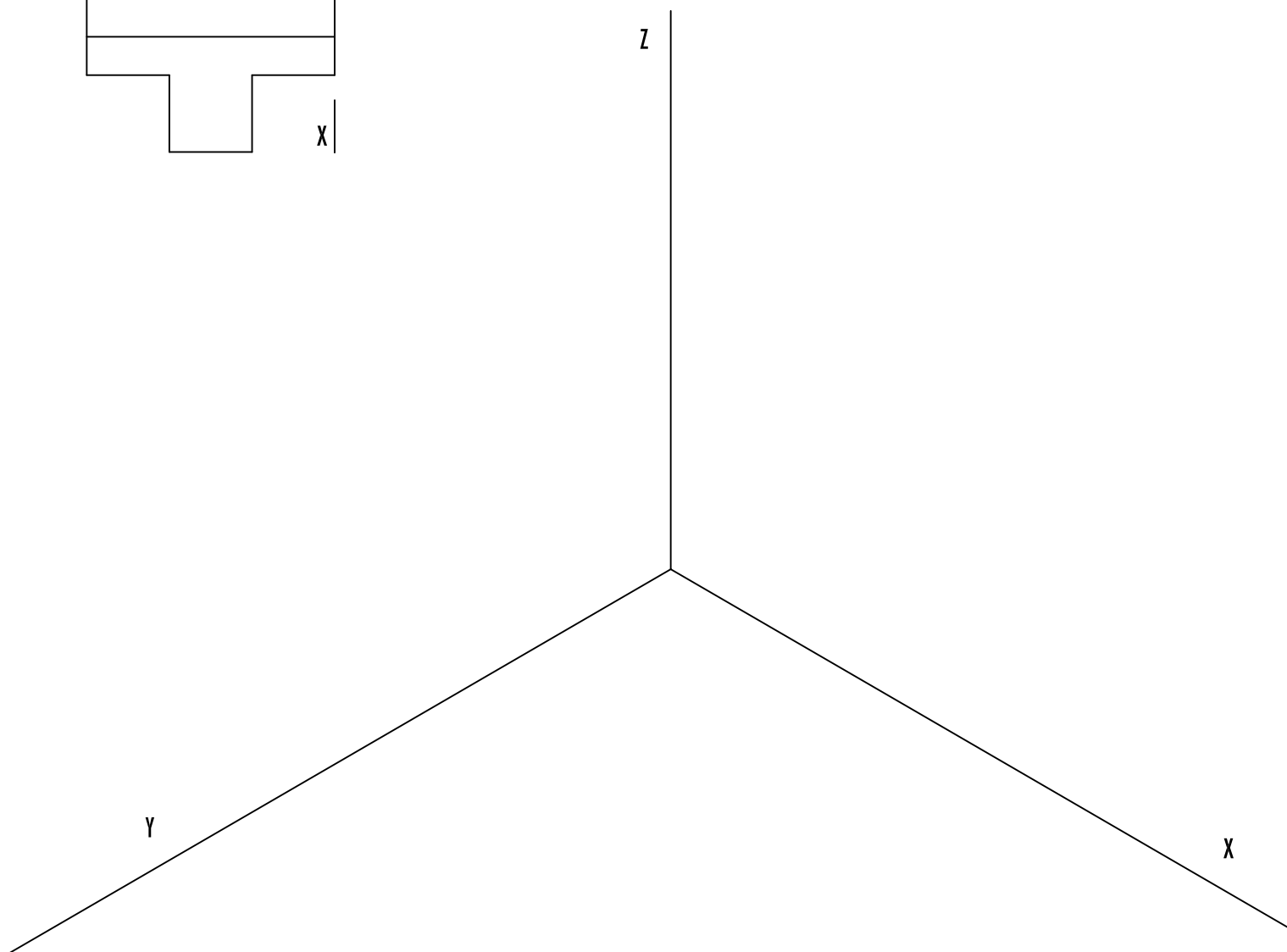
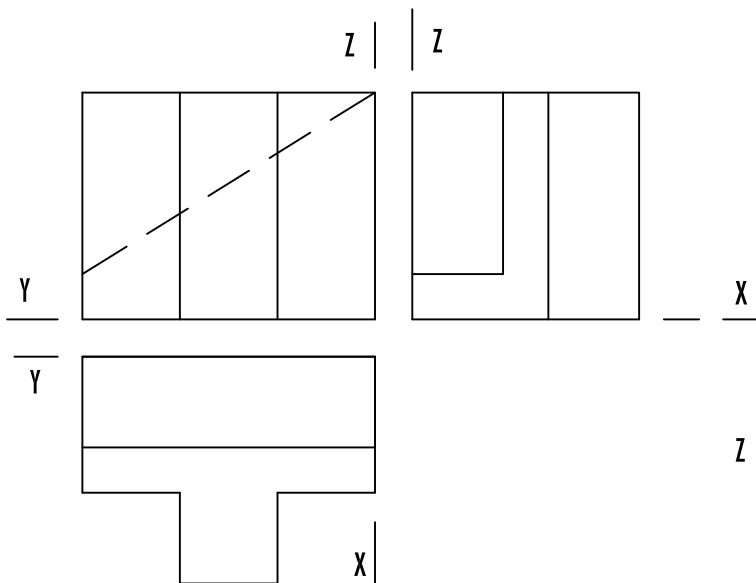
Consejería de Educación y Empleo.

Dirección General de Formación Profesional y Universidad

Grado Superior: DIBUJO. Parte Específica.

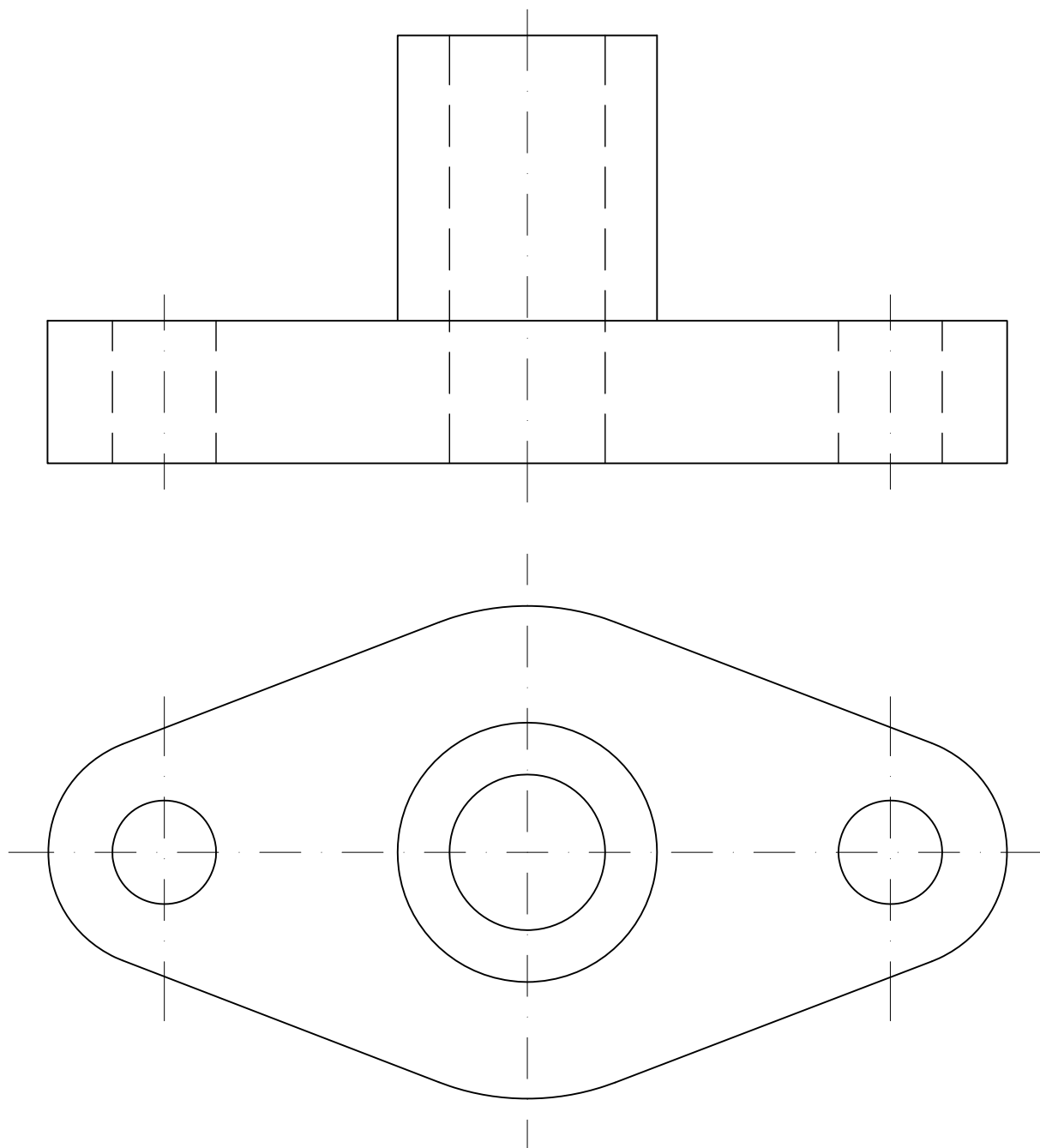
EJERCICIO 4:

DADA LA PIEZA POR SUS PROYECCIONES DIÉDRICAS, REALIZAR UNA PERSPECTIVA ISOMÉTRICA A E:2/1



EJERCICIO 5:

ACOTAR LA PIEZA DADA SEGÚN LAS NORMAS UNE.



Criterios de calificación:

La puntuación total de los cinco ejercicios será de 10 puntos. Cada uno se valorará con un máximo de 2 puntos. la puntuación de cada ejercicio estará determinada por los criterios siguientes:

- La solución correcta y la idoneidad del proceso seguido.
- La destreza, seguridad en el trazo, ausencia de tachaduras y calidad del dibujo.